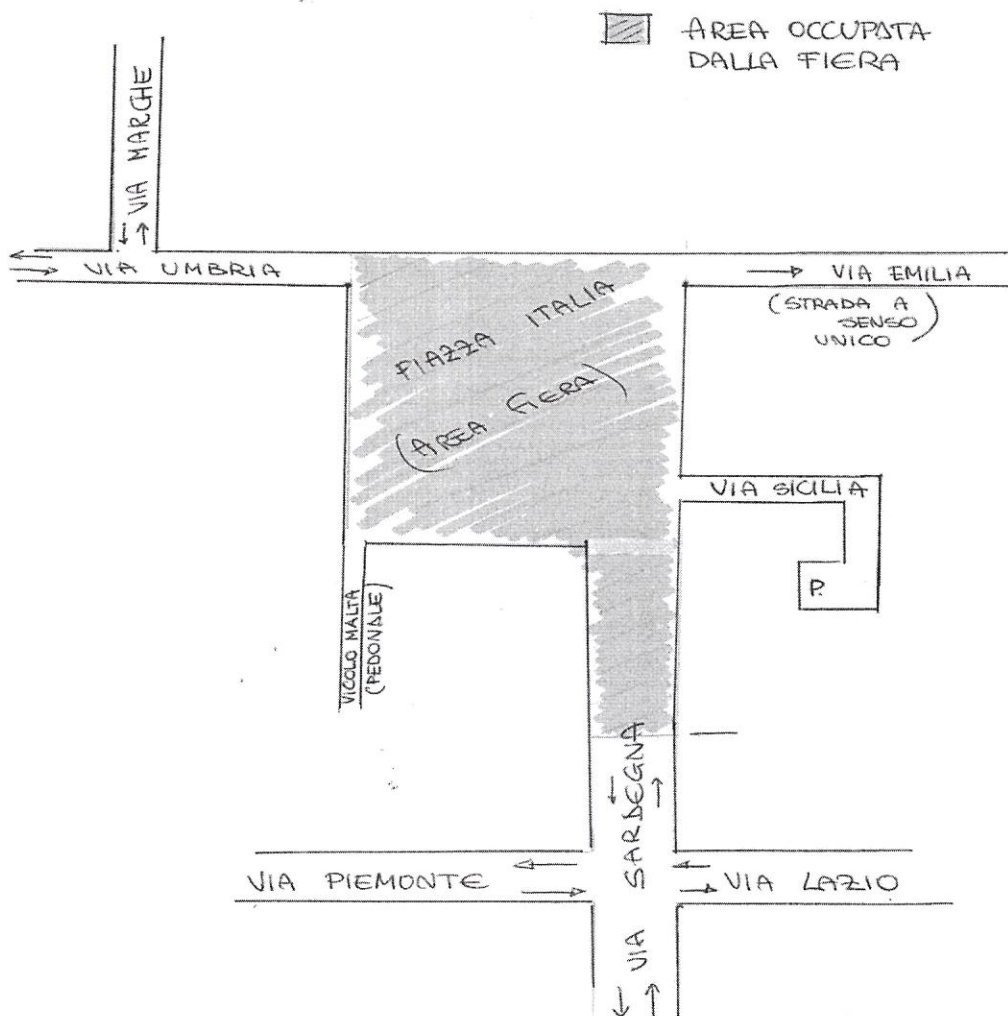


CONCORSO ISTRUTTORE TECNICO

15/02/2023 - PROVA 1

1) Per la fiera del paese si rende necessaria la chiusura di Piazza Italia e parte di Via Sardegna dalle ore 6:00 alle ore 20:00 di domenica 31 maggio 2023.

Vista la mappa stradale allegata, il candidato predisponga un'ordinanza per la temporanea modifica della viabilità.



2) Un cittadino segnala la possibile presenza di amianto su una copertura di un edificio privato. Quali azioni intende attuare il candidato?

g l
FR


3) Occorre procedere con l'esecuzione dei lavori di rifacimento del manto stradale di alcune vie. Si chiede al candidato di:

- a) elencare i principali documenti di cui si compone il progetto.
- b) Predisporre un elenco delle principali lavorazioni contenute nel computo metrico estimativo;
- c) Indicare le voci principali del Quadro economico dell'opera
- d) Indicare con quale atto è approvato il progetto ;
- e) Ai sensi del D.lgs 50/2016 (codice dei contratti) quale procedura di affidamento intende proporre ipotizzando un importo lavori di 95.000 €

4) Ai sensi del D.Lgs 81/2008 indichi il candidato in quali casi occorre predisporre il PSC, chi lo redige, in quale fase della realizzazione dell'opera deve essere predisposto e quali sono i contenuti.

5) Cosa sono i Layer in AUTOCAD?

6) Ai sensi del D.Lgs 267/2000 a quale organo compete l'approvazione dei Regolamenti comunali?

Handwritten signature and initials in black ink, located in the bottom right corner of the page. The signature appears to be 'G. G.' and the initials below it are 'H.B.'

COMUNE DI SANT'ILARIO
CONCORSO ISTRUTTORE TECNICO
15/02/2023 - PROVA 2

1) Si rende necessario l'acquisto di segnaletica verticale per un importo stimato di 15.000 € . Indichi il candidato quale procedura intende seguire per l'affidamento della fornitura nel rispetto del codice dei contratti (D.Lgs 50/2016) e illustri in modo schematico l'atto per addivenire alla fornitura.

2) Un cittadino segnala un possibile inquinamento acustico proveniente dalla vicina officina meccanica. Quali azioni intende attuare il candidato?

3) Dovendo affidare il servizio di verifica degli impianti di messa a terra , descriva il candidato quali sono le procedure per la verifica, la periodicità, la documentazione necessaria e le possibili modalità di affidamento del servizio considerando un importo di affidamento inferiore a 5.000 €.

4) Cantieri temporanei e mobili ai sensi del D.Lgs 81/2008.

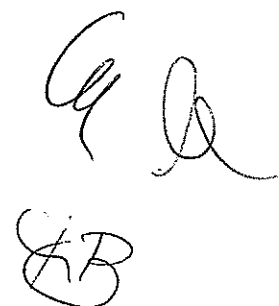
Indichi il candidato:

- a) Le figure della sicurezza in cantiere;
- b) La documentazione obbligatoria, le notifiche, gli enti di controllo;
- c) Le principali procedure da seguire nei casi di lavori stradali e di lavori in quota con cestello

5) Che cosa viene rappresentato con i sistemi GIS ?

6) Ai sensi del DLgs 267/2000:

- a) Quale organo ha il potere di emettere una determina?
- b) Quali ordinanze può emettere il Sindaco?
- c) Quali organi deliberano?

The image shows three handwritten signatures in black ink. The top two are written in a cursive style, with the first appearing to start with a large 'G' and the second with a large 'A'. The third signature, located below the first two, is more stylized and appears to be 'AB'.

COMUNE DI SANT'ILARIO
CONCORSO ISTRUTTORE TECNICO

15/02/2023 - PROVA 3

1) Che cos'è la determina a contrarre unica (o semplificata) per l'affidamento diretto del servizio di manutenzione dei presidi antincendio per un importo stimato inferiore a 40.000 € . Predisponga il candidato uno schema di determina.

2) Un cittadino segnala all'ufficio presunti problemi igienico sanitari all'interno di una proprietà privata.

Descriva il candidato come intende procedere e quali atti predisporrebbe nel caso la problematica sia effettivamente accertata.

3) Occorre procedere con l'esecuzione dei lavori di rifacimento del manto di copertura degli spogliatoi del campo sportivo . Si chiede al candidato di:

- a) elencare i principali documenti di cui si compone il progetto.
- b) Predisporre un elenco delle principali lavorazioni contenute nel computo metrico estimativo;
- c) Indicare le voci principali del Quadro economico dell'opera
- d) Indicare con quale atto è approvato il progetto ;
- e) Ai sensi del D.lgs 50/2016 (codice dei contratti) quale procedura di affidamento intende proporre ipotizzando un importo lavori di 85.000 € .

4) Cantieri temporanei e mobili ai sensi del D.Lgs 81/2008.

Indichi il candidato:

- d) Le figure della sicurezza in cantiere;
- e) La documentazione obbligatoria, le notifiche, gli enti di controllo;
- f) Le principali procedure da seguire nei casi di lavori sulla copertura degli edifici e quali dispositivi di protezione Individuali e/o collettivi adottare.

5) Cosa consente di disegnare il comando offset in AUTOCAD?

6) Ai sensi del DLgs 267/2000:

- g) Quale organo ha il potere di emettere una determina?
- h) Quali ordinanze può emettere il Sindaco?
- i) Quali organi deliberano?

